



€18,75

€5,95


€7,60

€12,95

€43,15

€4,25

€29,99

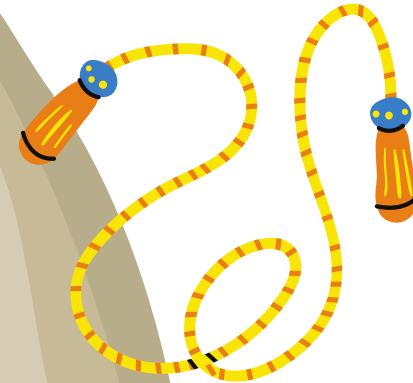


€12,45



€76,50


€6,75



€56,95



€13,80






€ 9,85

€ 6,75




€13,80



€12,45

€ 56,95



€29,99


€7,45



€10,50



€22,30



€15,99



€19,90



€43,25





MIJN VERLANGLIJST



Gooi allebei met de dobbelsteen en zet je pion vooruit. Ga in de zakken met cadeautjes op zoek naar de cadeaus waar jullie op staan.

<p>start</p> 					
					
					
<p>door naar start</p> 					

DIT MOET SINTERKLAAS BETALEN



Als jullie allebei de cadeaus hebben gevonden, onthoud dan goed wat de prijs is. Maak met de bedragen een plussom. Reken uit hoeveel Sinterklaas moet betalen voor deze cadeaus.

	+	=
	+	=
	+	=
	+	=
	+	=
	+	=
	+	=
	+	=

	+	=
	+	=
	+	=
	+	=
	+	=
	+	=
	+	=
	+	=



DIT MOET SINTERKLAAS BETALEN



Willen jullie jezelf uitdagen? Gooi dan nog een paar keer extra met de dobbelsteen en reken uit wat Sinterklaas dan moet betalen voor de cadeaus. Noteer de sommen hieronder.

					=
					=
					=
					=
					=
					=
					=
					=


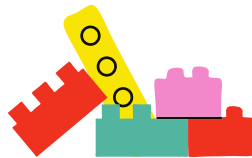


OPDRACHTKAARTJES

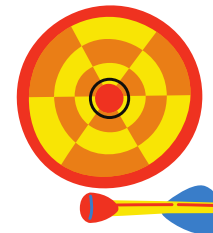

De volgende cadeaus
staan op je verlanglijstje.
Hoeveel moet Sinterklaas
betalen?



De volgende cadeaus
staan op je verlanglijstje.
Hoeveel moet Sinterklaas
betalen?



De volgende cadeaus
staan op je verlanglijstje.
Hoeveel moet Sinterklaas
betalen?





OPDRACHTKAARTJES

Je mag voor 50 euro
cadeaus uitzoeken voor
op je verlanglijstje.

Maak zoveel mogelijk
verschillende combinaties
van cadeautjes die je zou
kunnen kiezen.



Sinterklaas koopt de
volgende cadeaus. Hij
betaalt met 50 euro.
Hoeveel krijgt hij nog
terug?



Sinterklaas koopt de
volgende cadeaus. Hij
betaalt met 50 euro.
Hoeveel krijgt hij nog
terug?

